


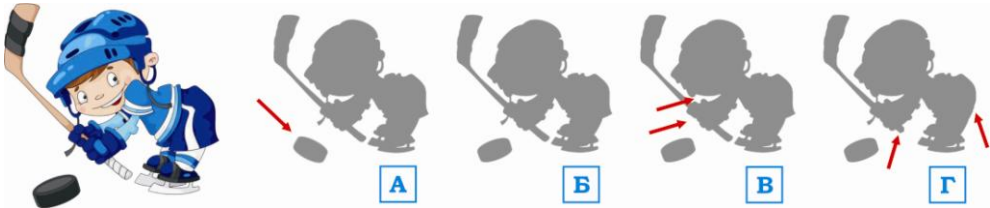










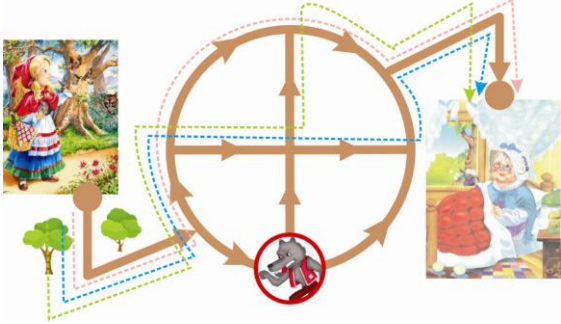
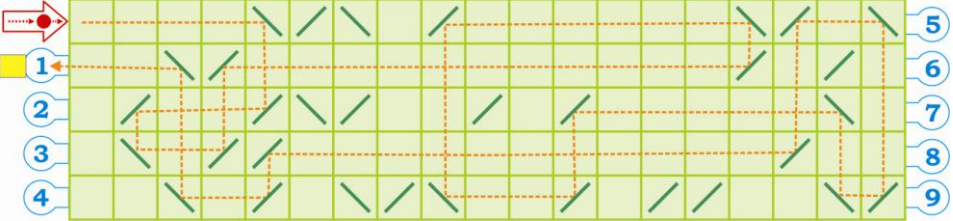
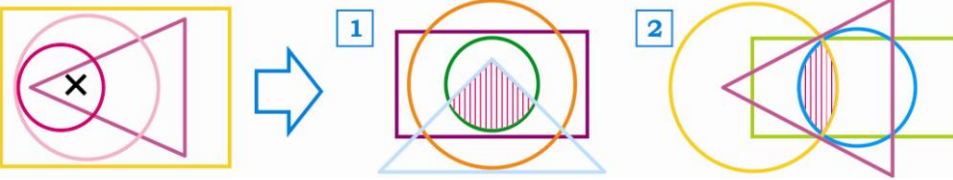

Российский конкурс-игра «Зимние интеллектуальные игры»

Вариант для дошкольников
декабрь 2018 год

Правильные ответы на задания конкурса

№ задания	Правильный ответ	Комментарий
1.	<p>Б</p> <p>1 балл</p>	<p>Загадка: "Эта птица не умчится, эта птица возвратится. Пусть кружит под облаками - хвостик я держу руками".</p> <p>Отгадка: Воздушный змей (картинка Б).</p> 
2.	<p>Д</p> <p>1 балл</p>	<p>Среди рисунков художника Кубикова нет изображения бегемота (ответ Д).</p>  <p>РИСУНКИ</p> 
3.	<p>Б</p> <p>1 балл</p>	<p>Ответ Б.</p> <p>У всех остальных теней есть отличия от оригинала (указаны красными стрелочками):</p> 
4.	<p>Г</p> <p>2 балла</p>	<p>Ответ Г.</p> 

5.	<p style="text-align: center;">7</p> <p style="text-align: center;">3 балла</p>	<p><i>Ответ 7.</i></p> <p><i>У всех остальных кубиков есть парный (по числу видных точек):</i></p> 
6.1	<p style="text-align: center;">В</p> <p style="text-align: center;">1 балл</p>	<p>Лимон [А], слива [Б], яблоко [Г] – фрукты; Помидор (томат) [В] – овощ.</p>
6.2	<p style="text-align: center;">Б</p> <p style="text-align: center;">1 балл</p>	<p>Колесо [А], монета [В], пуговица [Г] – круглая форма; Воздушный шарик [Б] – овальная форма.</p>
6.3	<p style="text-align: center;">В</p> <p style="text-align: center;">1 балл</p>	<p>Рыба [А], робот [Б], роза [Г] – первая буква «Р»; Чайник [В] – первая буква «Ч» (не «Р»).</p>
7.1	 <p style="text-align: center;">2 балла</p>	<p>1.  В этом ряду происходит два изменения: первое – <i>увеличивается на одну число линий внутри квадрата</i> [значит, в ответе будет четыре линии]; второе – <i>меняется направление положения линий (сначала из нижнего левого угла в верхний правый угол, затем из верхнего левого угла в нижний правый угол, и далее этот порядок повторяется)</i> [значит, в ответе линии будут направлены из верхнего левого угла в нижний правый угол].</p>
7.2	 <p style="text-align: center;">2 балла</p>	<p>2.  В этом ряду происходит два изменения: первое – <i>закрашенный кружок перемещается по углам квадрата по часовой стрелке</i> [значит, в ответе закрашенный кружок будет расположен в левом нижнем углу]; второе – <i>место, с которого «уходит» закрашенный кружок остается пустым</i> [значит, в ответе кроме закрашенного кружка еще будет только один пустой кружок, расположенный в центре].</p>

<p>7.3</p>	 <p>2 балла</p>	<p>3.  В этом ряду происходит перемещение ломаной линии со стрелкой, состоящей из двух частей. Она движется «змейкой» – первая ее часть при переходе к следующему квадрату «исчезает» и становится новой второй частью, т.е. продолжением старой второй части [значит, в ответе первая часть линии будет направлена из правого нижнего угла в верхний левый угол, а ее вторая часть будет направлена из верхнего левого угла в нижний левый угол].</p>
<p>8.</p>	<p>3 (три)</p> <p>2 балла</p> <p>При меньшем числе расчит доли от 1 балла (например, за ответ «2» будет 0,67 балла)</p>	<p>Для Красной шапочки существует три безопасных маршрута через лес для того, чтобы попасть к бабушке [на рисунке справа они выделены цветными пунктирами].</p> 
<p>9.</p>	<p>4 и 1</p> <p>2 балла</p>	<p>Две таблички, которые вместе дают возможность прочесть название рыбы – это №4 «ЩУ» и №1 «КА».</p>
<p>10.</p>	<p>1</p> <p>2 балла</p>	<p>Образец показывает, как ведет себя шарик. Повторяя схему его движения в примере с лабиринтом, получаем:</p> 
<p>11.</p>	<p>см. комментарий</p> <p>по 2 балла</p>	<p>На примере видно, что крестик находится внутри области, которая принадлежит: треугольнику, двум кругам и прямоугольнику одновременно.</p>  <p>При решении задания надо найти аналогичные области на других рисунках (тут они заштрихованы темно розовыми линиями) и поставить внутри этих областей по крестику.</p>
<p>12.</p>	<p>см. комментарий</p> <p>3 балла</p>	 <p>Три будильника показывают разное время: 08.20 – 08.35 – 08.50 (разница – плюс 15 мин.) Следовательно, четвертый будильник должен показывать: $08.20 + 0.15 = 09.05$ (девять часов и 5 минут)</p>

<p>13.</p>	<p><i>см. комментарий</i></p> <p>3 балла</p>	<p>По условию: Трое ребят рисовали животных разными карандашами - красным, зеленым и синим. Красным нарисовали картинку, название животного на которой имеет буквы "О" и "Л", а зеленым – буквы "Л" и "У".</p> <div style="display: flex; justify-content: space-around; align-items: center;"> <div style="text-align: center;">  <p>А</p> <p>КОЗА</p> </div> <div style="text-align: center;">  <p>Б</p> <p>АКУЛА</p> </div> <div style="text-align: center;">  <p>В</p> <p>СЛОН</p> </div> </div> <p><i>Значит картинку с козой (А) рисовали синим карандашом.</i></p>
<p>14.</p>	<p><i>см. комментарий</i></p> <p>по 0,2 балла за каждый верный ответ</p> <p>минус 0,1 балла за каждый неверный</p>	<p>Отличия на двух плакатах обозначены цветными рамками:</p> <div style="display: flex; justify-content: space-around;"> <div style="border: 1px solid red; padding: 5px;">  </div> <div style="border: 1px solid blue; padding: 5px;">  </div> </div>

МАКСИМАЛЬНОЕ ЧИСЛО БАЛЛОВ – 35