



СМАРТ КЕНГУРУ

♦ Математическая игра для первоклассников ♦ 2024 ♦

Заполни бланк печатными буквами. Используй тёмную ручку.

ФАМИЛИЯ

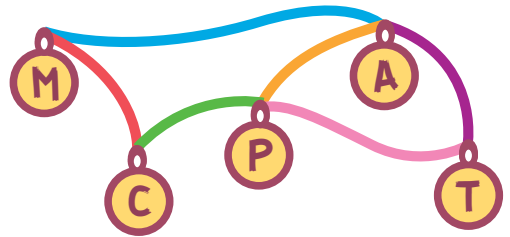
ИМЯ

КОД ШКОЛЫ (сообщит учитель)

КЛАСС (отметь крестиком X) а б в г д е другое впиши букву или цифру

В каждой задаче отметь КРЕСТИКОМ один ответ.

1 Какие ленточки надо разрезать, чтобы получилась гирлянда со словом СМАРТ?




2 Какой мячик лежит на третьем справа месте?



3 Сколько яблок надо добавить, чтобы яблок и груш стало поровну?

5 4 3 2



4 Какое число закрыто кружком?


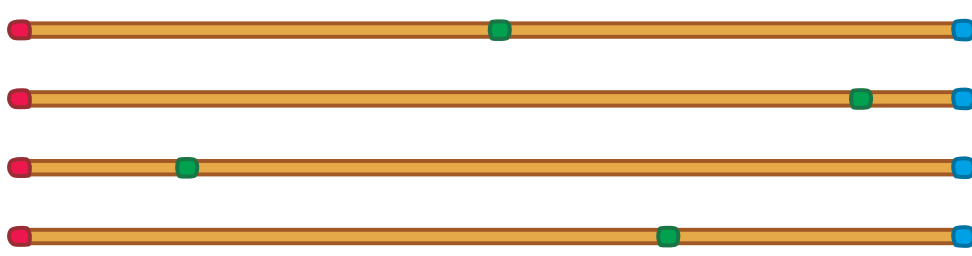
7 6 5 4

$3 + 5 = 2 +$

5 Что не может получиться, если поворачивать этот листок?



- 6 Верёвочку свернули колечками как показано на рисунке. Что получится, если её развернуть?



- 7 За один ход Смартик увеличивает число на 2. Он начал с числа 3. За сколько ходов получится число 9?

3

4

5

6

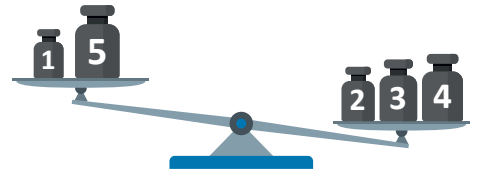
- 8 Какую гирю надо добавить, чтобы уравновесить весы?

1

2

3

4



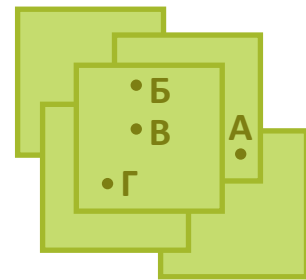
- 9 Пять одинаковых квадратов положили на стол. В какой точке больше всего слоёв?

А

Б

В

Г




- 10 Сколько фигур можно дорисовать, чтобы красных треугольников стало столько же, сколько синих кругов, а красных кругов – столько же, сколько синих фигур?

4

3

2

1




- 11 Кто из ребят держит обеих своих соседей за левую руку?

Петя

Маша

Саша

Коля



Оля

Петя

Маша

Саша

Коля

Вика

- 12 На рисунке справа Смартик хочет закрасить три фигурки так, что если две фигурки разной формы лежат рядом, то из них будет закрашена только одна. Какую фигурку Смартик не сможет закрасить?

2

3

4

5

