



СМАРТИК-2022

Математическая игра для первоклассников

Заполни бланк печатными буквами. Используй тёмную ручку.

ФАМИЛИЯ

--	--	--	--	--	--	--	--	--	--	--	--	--	--	--	--	--	--	--	--

ИМЯ

--	--	--	--	--	--	--	--	--	--	--	--	--	--	--	--	--	--	--	--

КОД ШКОЛЫ (сообщит учитель)

--	--	--	--	--	--	--	--	--	--

КЛАСС (отметь крестиком X) а б в г д е другое

впиши букву или цифру



В каждой задаче отметь КРЕСТИКОМ один ответ.

1 Смартик сложил из спичек своё имя. В какой букве меньше всего спичек?



С
 А

М
 Т

2 Какой рисунок составлен только из  и ?



3 Какая пирамидка получится из всех этих деталей?



4 Какие две фигурки одного цвета, но разной формы?

1 и 5

2 и 4

2 и 6

3 и 4



5 Какое число надо поставить в закрашенную клетку?

4

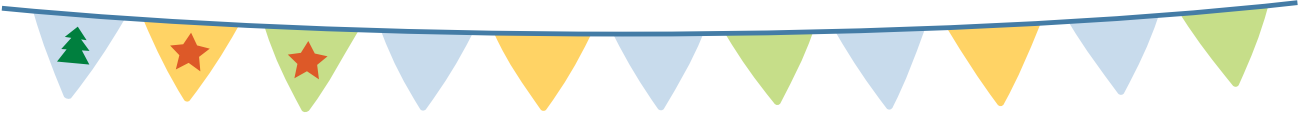
7

8

9

$$\boxed{6} \xrightarrow{-2} \boxed{} \xrightarrow{+5} \boxed{?}$$

- 6 Смартик украшает флажки на гирлянде: на первом флажке он рисует ёлочку, а на двух следующих — звёздочки, потом всё повторяет. Сколько получится звёздочек, когда он украсит всю гирлянду?








4 5 6 7

- 7 Смартик по-разному записал число **семь**: $7 = 1 + 6 = 2 + 5$. Как ещё можно записать это число?

$2 + 4$ $3 + 5$ $3 + 4$ $2 + 6$

- 8 Что надо положить на пустую чашу весов, чтобы их уравновесить?



- 9 Лёня и Миша строят одинаковые башни из кубиков. Лёне осталось положить ещё 6 кубиков. Сколько кубиков надо положить Мише?

1 2 3 4







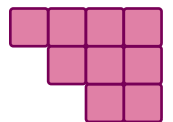
башня Миши



башня Лёни

- 10 Квадрат разрезали на две части. Одна часть показана на рисунке справа. Найди вторую часть.



- 11 Какое число не самое маленькое в наборе 2, 3, 5, 7, 8, 9, но на 3 меньше другого числа из этого набора?

2 3 5 7

- 12 Смартик встал перед зеркалом с книжкой «Репка» в левой руке. Что он увидел?