


17. Коала — одно из самых знаменитых австралийских животных, которое содержат редко в зоопарках, так как ...

- А) это запрещено;
- Б) посетители закармливают зверей;
- В) коалы очень часто сбегают;
- Г) питаются они только листьями некоторых видов эвкалиптов;
- Д) коалы нервничают, видя толпы посетителей.



17

18. Австралийские аборигены использовали и используют в своей жизни и искусстве образные символы, которыми обозначают что-то важное для себя. Символ какого животного изображён на рисунке?



19. Почему многие австралийские пляжи в воде огорожены сетками?

- А) Чтобы пловцы не заплывали очень далеко.
- Б) Для отлова мусора.
- В) Сетки являются препятствиями для сёрферов.
- Г) Для защиты от больших акул.
- Д) Сетки являются пограничными заграждениями.

20. На фотографии изображена традиционная лодка полинезийцев, внешняя часть которой добавлена для ...

- А) ловли рыбы;
- Б) перевозки детей;
- В) отпугивания акул;
- Г) упрощения постановки паруса;
- Д) повышения устойчивости.



20

Время, отведённое на выполнение заданий, – 40 минут.

**2 класс**

**Человек и природа**

Институт продуктивного обучения  
Новосибирский центр продуктивного обучения

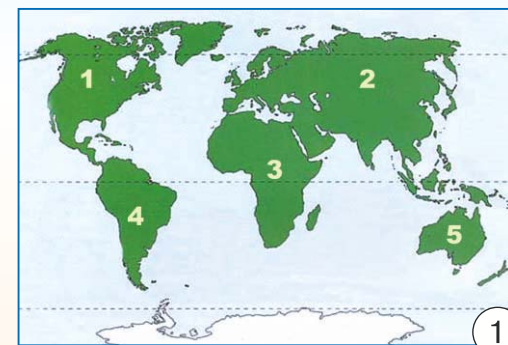
МЕЖДУНАРОДНЫЙ ИГРОВОЙ КОНКУРС  
www.konkurs-chip.ru

23 октября 2019 года

..... Задания, оцениваемые в 3 балла .....

1. Какой цифрой на карте обозначена Австралия?

- А) 1; Б) 2; В) 3; Г) 4; Д) 5.



2. Какой океан разделяет Австралию и Африку?

- А) Северный Ледовитый;
- Б) Атлантический;
- В) Индийский;
- Г) Тихий;
- Д) Южный.

3. Какой из этих государственных флагов принадлежит Австралии?



4. «Они ушами двигают,  
На задних лапах прыгают  
И держат равновесие  
При помощи хвоста...»  
О каком австралийском животном пишет поэт Владимир Безладнов?



А) СОБАКА ДИНГО    Б) НАМБАТ    В) СУМЧАТАЯ КУНИЦА    Г) КЕНГУРУ    Д) КОАЛА




5. Столицей Австралии является город ...

- (А) Канберра; (Б) Мельбурн; (В) Сидней;  
(Г) Аделаида; (Д) Веллингтон.

6. Основным видом транспорта для экспорта продукции сельского хозяйства и промышленности из Австралии является ...

- (А) воздушный; (Б) морской; (В) железнодорожный;  
(Г) автомобильный; (Д) гужевой.

7. На какой фотографии изображены эвкалипты?



..... Задания, оцениваемые в 4 балла .....

8. На рисунках – дети разных народов мира в национальных костюмах. На каком рисунке изображены дети одной из стран Океании?



9. Австралия является самым ... континентом.

- (А) большим; (Б) холодным; (В) жарким;  
(Г) сухим; (Д) влажным.

10. Какая из этих рек протекает по территории Австралии?

- (А) Ангара; (Б) Муррей; (В) Нил;  
(Г) Амазонка; (Д) Дунай.

11. Австралия производит сахар в основном из ...



12. Наступление Нового года в Австралии празднуют ...

- (А) весной; (Б) летом; (В) осенью;  
(Г) зимой; (Д) каждый год по-разному.

13. На фотографии австралийские аборигены ...

- (А) добывают огонь;  
(Б) сверлят отверстие в копье;  
(В) затачивают копье;  
(Г) запускают волчок;  
(Д) готовят шерсть для прядения.



14. Какой из этих театров расположен в Австралии и стал одной из главных достопримечательностей континента?



..... Задания, оцениваемые в 5 баллов .....

15. Австралия является мировым лидером по производству ...

- (А) шерсти; (Б) риса; (В) пшеницы; (Г) молока; (Д) кукурузы.

16. Самая крупная птица Австралии – это ...

