

23. Почти 400 лет на севере Канады находился ...

- (А) полюс мира; (Б) географический центр Северной Америки;
(В) магнитный полюс; (Г) экватор; (Д) нулевой меридиан.

24. Миссисипи, крупнейшая река Северной Америки, впадает в ...

- (А) Калифорнийский залив; (Б) Берингово море; (В) Гудзонов залив;
(Г) Баффинов залив; (Д) Мексиканский залив.

25. Какой из обитателей Северной Америки по происхождению связан с Южной Америкой?



26. Какое из пяти Великих озёр Северной Америки целиком находится на территории США?

- (А) Верхнее; (Б) Гурон; (В) Мичиган; (Г) Онтарио; (Д) Эри.

27. Калифорнийская кукушка-марафонец – хороший бегун: её скорость может достигать 40 километров в час. Что помогает ей быстро бежать?

- (А) участки кожи, лишённые перьев;
(Б) способность впадать в оцепенение ночью;
(В) слегка загнутый вниз клюв;
(Г) наличие хохолка;
(Д) расположение пальцев – два вперед, два назад.

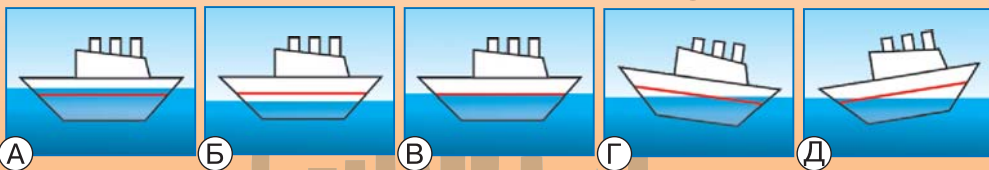
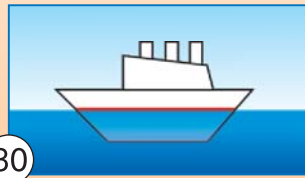
28. Североамериканские горы Кордильеры занимают одно из ведущих положений в мире по запасам цветных и драгоценных металлов. Какой из перечисленных металлов не является драгоценным?

- (А) золото; (Б) серебро; (В) платина; (Г) медь; (Д) палладий.

29. Численность этого вида птиц резко сократилась, так как своеобразное поведение делает их лёгкой добычей для охотников.

- (А) перепел; (Б) фазан; (В) дикуша;
(Г) куропатка; (Д) рябчик.

30. Корабль, загруженный в речном порту до уровня ватерлинии, выходит в океан. Как будет располагаться ватерлиния корабля относительно уровня воды?



Человек и природа

МЕЖДУНАРОДНЫЙ ИГРОВОЙ КОНКУРС

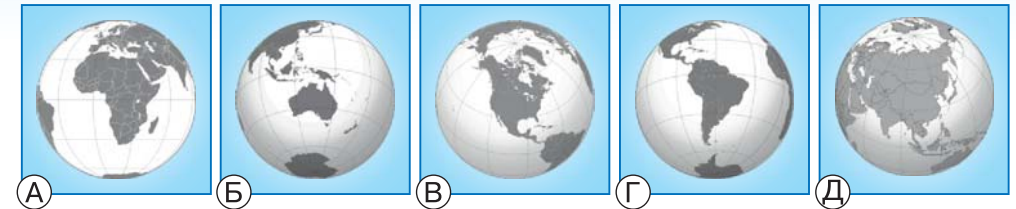
5–6
классы

13 апреля 2017 года



Задания, оцениваемые в 3 балла

1. На каком изображении глобуса видна вся Северная Америка?



2. Северную Америку омывают воды ...

- (А) одного океана; (Б) двух океанов; (В) трёх океанов;
(Г) четырёх океанов; (Д) пяти океанов.



3. На картине Гордона Миллера корабли «Санта-Мария», «Пинта» и «Нинья» (первая экспедиция Христофора Колумба к берегам Америки) покидают гавань Палоса. Палос – это порт ...

- (А) в Испании; (Б) в Португалии;
(В) в Англии; (Г) во Франции;
(Д) в Швеции.

4. На фотографии – одна из самых знаменитых статуй мира. Она находится в ...

- (А) Вашингтоне; (Б) Лос-Анджелесе; (В) Нью-Йорке;
(Г) Чикаго; (Д) Филадельфии.




5. Перечисленные ниже современные командные виды спорта сформировались в Северной Америке, кроме ...

- (А) баскетбола; (Б) хоккея на траве; (В) бейсбола;
(Г) хоккея с шайбой; (Д) волейбола.

6. В каком штате США начинается действие сказки Александра Волкова «Волшебник Изумрудного города»?

- (А) Небраска; (Б) Техас; (В) Арканзас; (Г) Канзас; (Д) Орегон.

7. На этих картинках, кроме одной, изображены иллюстрации к книгам американских писателей. Найдите лишнюю картинку.



8. Популярный герой североамериканского фольклора Поль Баньян – ...

- А) моряк; Б) игрок в бейсбол; В) дровосек;
Г) земледelec; Д) охотник.

9. В Америке изобрели ...

- А) пенициллин; Б) мобильный телефон;
В) лапшу быстрого приготовления;
Г) электрический трамвай; Д) шариковую ручку.

10. Через Северную и Южную Америку тянется грандиозная горная система ...

- А) Аппалачи; Б) Кордильеры; В) Блу-Маунтин;
Г) Кордильера-Сентабраль; Д) Торнгат.



8

..... Задания, оцениваемые в 4 балла

11. Герой книги Марка Твена «Приключения Тома Сойера» живёт в городке Санкт-Петербурге, расположенном на берегу великой реки. Какой?

- А) Нева; Б) Миссисипи; В) Гудзон; Г) Йеллоустон; Д) Юкон.

12. Это животное считается одним из символов Канады.



13. Какой народ, проживающий на севере Америки и севере России, с давних пор использует собачьи упряжки?

- А) команчи; Б) навахо; В) чукчи; Г) эвенки; Д) эскимосы.

14. Самая высокая птица Северной Америки – это ...

- А) американский журавль; Б) канадский веретенник;
В) андский кондор; Г) белоголовый орлан; Д) страус Эму.


15. Жители Северной Америки ввели в культуру земледелия ...

- А) кукурузу; Б) картофель; В) кофе;
Г) сахарный тростник; Д) посевной рис.

16. Семиточечная коровка неоднократно завозилась в США из Европы для ...

- А) борьбы с сорными растениями; Б) кормления домашнего скота;
В) снижения популяции тлей; Г) опыления сельскохозяйственных культур;
Д) борьбы с колорадскими жуками.

17. Индейцы в доколумбовой Америке изобрели ...



18. На картине Эрнеста Сетона-Томпсона изображено характерное для прерий копытное – ...

- А) бизон; Б) сайгак; В) белохвостый олень;
Г) вилорог; Д) косуля.

19. В романе Джеймса Фенимора Купера «Зверобой» читаем: «Зверобой вскоре высадился на берег. Обутый в мокасины, он бесшумно пробирался по зарослям». Индейцы свои мокасины изготавливали из ...

- А) коры деревьев; Б) листьев бананов; В) сыромятной кожи;
Г) необработанной шкуры бобра; Д) волокон трав.



18

20. Больше всего нефти в Северной Америке добывают в ...

- А) США; Б) Канаде; В) Тринидаде и Тобаго; Г) Гондурасе; Д) Мексике.

..... Задания, оцениваемые в 5 баллов

21. На флаге США число полос равно ...

- А) числу главнейших рек и озёр страны;
Б) числу людей, которые считаются основателями государства;
В) числу индейских племён, живущих в стране;
Г) исходному числу штатов;
Д) числу месяцев в году.



21

22. Ацтеки считали, что этот цветок указывает на наличие золота в земле.



А

Б

В

Г

Д