



Задания Всероссийского полиатлон-мониторинга

www.polytoring.ru

При выполнении заданий 1-20 нужно выбрать правильный ответ, к заданиям 21-24 необходимо дать краткий ответ (одно число **или** одно слово). Продолжительность тестирования – 50 минут.

2017 год

4 класс


Задачи, оцениваемые в 2 балла

- Вычисли $428+293$.
А) 611 Б) 621 В) 711 Г) 721
- Аскар сказал, что все квадраты – прямоугольники, а Алина сказала, что все прямоугольники – квадраты. Кто из них прав?
А) Аскар Б) Алина В) оба правы Г) оба не правы
- Какое слово имеет корень, отличный от корней других слов?
А) гусак Б) гусята В) гусеница Г) гусыня
- Какое из предложений является побудительным?
А) Я берегу родную природу. Б) Береги родную природу!
В) Я берегу родную природу! Г) Я берегу родную природу?
- Какие животные являются всеядными?
1) медведь 2) олень 3) ёж 4) крот 5) кабан 6) лось 7) тигр 8) сова
А) 2, 4, 6 Б) 1, 3, 5 В) 1, 6, 8 Г) 3, 4, 7
- Что **не** относится к осадкам?
А) дождь Б) гром В) град Г) снег
- Какой герой из басни И. Крылова произнес:
«Ты всё пела? Это дело:
Так поди же, попляши!»
А) Ворона Б) Лиса В) Муравей Г) Медведь
- Кто из них **не** из металла?
А) Стойкий оловянный солдатик Б) Чиполлино
В) Железный Дровосек Г) Самоделкин

Задачи, оцениваемые в 3 балла

9. Сколько различных острых углов изображено на рисунке?

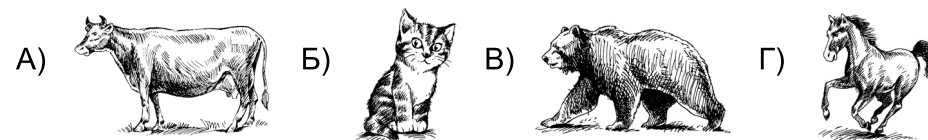
- А) 5 Б) 6 В) 3 Г) 4



10. В ряд выписаны все числа от 1 до 100. Сколько раз написана цифра 4?

- А) 19 Б) 20 В) 21 Г) 44

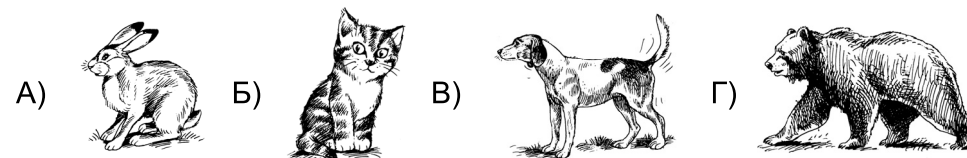
11. Если работа не начата, то говорят, что ... не валялся(лась).



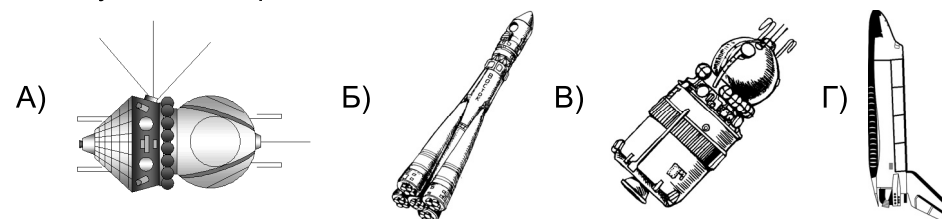
12. В каком падеже стоит имя существительное в словосочетании *остановит коня*?

- А) родительный Б) дательный В) винительный Г) предложный

13. След чьей лапы изображён на рисунке?



14. Выбери космический аппарат, который **не** имеет отношения к полёту Ю.А. Гагарина.



15. Кто является автором двух стихотворных отрывков?

*Лес, точно терем расписной,
Лиловый, золотой, багряный,
Весёлой, пёстрою стеной
Стоит над светлою поляной.*

*Зимним холодом пахнуло
На поля и на луга.
Ярким пурпуром зажглись
Пред закатом небеса.*

А) И.А. Бунин Б) А.А. Фет В) А.С. Пушкин Г) Ф.И. Тютчев

16. Кем приходится князю Гвидону ткачиха с поварихой?

А) тётями Б) сёстрами В) бабушками Г) никем

Задачи, оцениваемые в 4 балла

17. Если каждую звёздочку в выражении $4 \times 4 \times 4$ заменить на знак какого-то арифметического действия, то в результате невозможно получить...

А) 12 Б) 20 В) 3 Г) 32

18. Выбери слова среднего рода.

1) *пюре* 2) *ножницы* 3) *шимпанзе* 4) *такси*

А) 1, 2 Б) 1, 4 В) 2, 3 Г) 1, 3, 4

19. Установи соответствие.

1)



2)



3)



а) скелетон б) кёрлинг в) сноуборд д) бобслей
А) 1-d, 2-с, 3-а Б) 1-b, 2-d, 3-а В) 1-с, 2-b, 3-а Г) 1-а, 2-с, 3-в

20. Что изготавливает мастерица?

А) пряжу Б) лапти
В) валенки Г) чашку



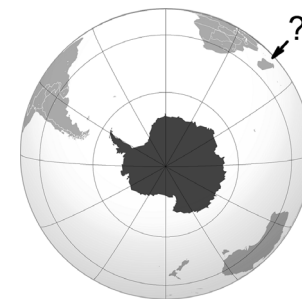
К заданиям 21-24 необходимо дать краткий ответ (одно число **или** одно слово). Ответ необходимо записывать **очень разборчиво**, иначе компьютер его не прочтёт!

21. У пекаря 8 пирожков, у лекаря – 4 пирожка. На обед они позвали путника и съели все пирожки, разделив их поровну. У путника было 12 рублей. Сколько рублей должен взять пекарь у путника, если один пирожок оценён в один рубль?

22. Сколько **пар** однокоренных слов в стихотворении Г. Комаровского и Г. Ладонщикова? (Ответ – **одно число!**)

*У меня друзей немало,
но я всех нарисовала:
Коля колет,
Поля полет,
Паша пашет,
Соня спит.
Катя катит,
Тоня тонет,
Но не дам ей утонуть!
Я спасу подружку Тоню:
Подрисую что-нибудь!*

23. В лист ответов запиши название острова, отмеченного на карте знаком вопроса. (Ответ – **одно слово!**)



24. Переводя в 1867 году сказки Ш.Перро, И.С. Тургенев назвал одну из них «Замарашка». Как мы привыкли называть главную героиню этой сказки? (Ответ – **одно слово!**)