



Задания Всероссийского полиатлон-мониторинга

www.polytoring.ru

При выполнении заданий 1-20 нужно выбрать правильный ответ, к заданиям 21-24 необходимо дать краткий ответ (одно число **или** одно слово). Продолжительность тестирования – 50 минут.

2017 год

3 класс

Задачи, оцениваемые в 2 балла

1. Вычисли $45:5$.

А) 5 Б) 8 В) 9 Г) 40

2. Вычисли $(44 - 9) - 14$.

А) 11 Б) 21 В) 31 Г) 35

3. В каком слове ставится мягкий знак?





А) пон__чик Б) мощ__ный В) в__ехать Г) в__юга

4. Найди слово с корнем -пол-.

А) полетел Б) политика В) поле Г) тополь

5. Чьи это следы?



А)  Б)  В)  Г) 

6. В воде хорошо растворяется...

А) песок Б) мел В) соль Г) глина

7. В какой сказке встречается Баба Яга?

А) «Гуси-лебеди» Б) «Три медведя»
В) «Муха Цокотуха» Г) «Три поросёнка»

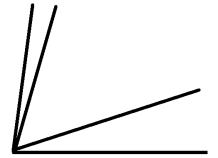
8. На зелёном дубе у лукоморья по цепи ходит кот. А кто сидит на ветвях?

А) Русалка Б) голубка В) Баба Яга Г) царевна

Задачи, оцениваемые в 3 балла

9. Сколько различных острых углов изображено на рисунке?





А) 5 Б) 6 В) 3 Г) 4



10. У Винни-Пуха полностью заполнены горшки для мёда ёмкостью 3 кг и 10 кг. Сколько всего горшков ёмкостью 3 кг, если у него 32 кг мёда?

А) 1 Б) 2 В) 3 Г) 4

11. Если работа не начата, то говорят, что ... не валялся(лась).

А)  Б)  В)  Г) 

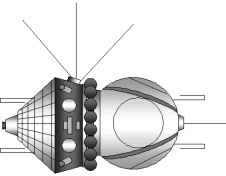

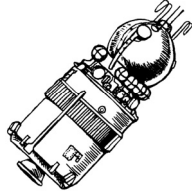
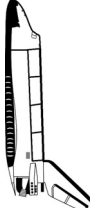
12. В каком слове **нет** глухих согласных звуков?

А) алмаз Б) болт В) вдруг Г) глаза

13. Какое растение является кустарником?

А) смородина Б) укроп В) клубника Г) томат

14. Выбери космический аппарат, который **не** имеет отношения к полёту Ю.А. Гагарина.

А)  Б)  В)  Г) 

15. Кто из них **не** из металла?

- А) Стойкий оловянный солдатик Б) Буратино
В) Железный Дровосек Г) Самоделкин

16. Кем приходится князю Гвидону ткачиха с поварихой?

- А) тётями Б) сёстрами В) бабушками Г) никем

Задачи, оцениваемые в 4 балла

17. Если каждую звёздочку в выражении 4×4×4 заменить на знак какого-то арифметического действия, то в результате невозможно получить...

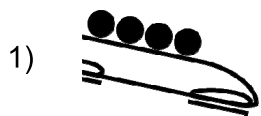
- А) 12 Б) 20 В) 3 Г) 32

18. Выбери слова среднего рода.

1) *пюре* 2) *ножницы* 3) *шимпанзе* 4) *такси*

- А) 1, 2 Б) 1, 4 В) 2, 3 Г) 1, 3, 4

19. Установи соответствие.



2)



3)



- а) скелетон б) кёрлинг в) сноуборд г) бобслей
А) 1-d, 2-с, 3-а Б) 1-b, 2-d, 3-а В) 1-с, 2-b, 3-а Г) 1-d, 2-с, 3-в

20. Что изготавливает мастерица?

- А) пряжу Б) лапти
В) валенки Г) чашку



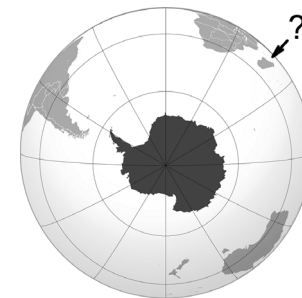
К заданиям 21-24 необходимо дать краткий ответ (одно число **или** одно слово). Ответ необходимо записывать **очень разборчиво**, иначе компьютер его не прочтёт!

21. У пекаря 8 пирожков, у лекаря – 4 пирожка. На обед они позвали путника и съели все пирожки, разделив их поровну. У путника было 12 рублей. Сколько рублей должен взять пекарь у путника, если один пирожок оценён в один рубль?

22. Сколько **пар** однокоренных слов в стихотворении Г. Комаровского и Г. Ладонщикова? (Ответ – **одно число!**)

*У меня друзей немало,
но я всех нарисовала:
Коля колет,
Поля полет,
Паша пашет,
Соня спит.
Катя катит,
Тоня тонет,
Но не дам ей утонуть!
Я спасу подружку Тоню:
Подрисую что-нибудь!*

23. В лист ответов запиши название острова, отмеченного на карте знаком вопроса. (Ответ – **одно слово!**)



24. Переводя в 1867 году сказки Ш.Перро, И.С. Тургенев назвал одну из них «Замарашка». Как мы привыкли называть главную героиню этой сказки? (Ответ – **одно слово!**)