



Задания Всероссийского полиатлон-мониторинга

www.polytoring.ru

При выполнении заданий нужно выбрать правильный ответ.
Продолжительность тестирования – 45 минут.

2015 год

2 класс

Задачи, оцениваемые в 2 балла

1. Какую цифру нужно поставить вместо ☀, чтобы получилось верное неравенство $2☀0 > 289$?

- А) 1 Б) 0 В) 8 Г) 9

2. Младенца повезли на прогулку длиной 4 км. Проехав половину пути, он уснул и проспал до конца прогулки. Сколько километров пути проспал младенец?

- А) 1 Б) 2 В) 3 Г) 4





3. Если расположить слова по алфавиту, то последним будет слово...

- А) цапля Б) чайка В) филин Г) фламинго

4. Что любопытной Варваре на базаре оторвали?

- А) косу Б) ухо В) карман Г) нос





5. Какой дорожный знак указывает на место остановки автобуса или троллейбуса?

- А)  Б)  В)  Г) 

6. Музыкальное произведение, являющееся одним из символов государства, – это...

- А) марш Б) гимн В) песня Г) опера

7. Братец Иванушка, напившись водицы из копытца, превратился в...

- А)  Б)  В)  Г) 

8. Глупый маленький мышонок

Отвечает ей спросонок:

- Голосок твой так хорош.

Очень сладко ты поёшь!

Чей голос так понравился мышонку?

- А) тёти свинки Б) тёти утки В) тёти кошки Г) тёти щуки

Задачи, оцениваемые в 3 балла

9. Сколькими способами можно раздать два разных подарка двум именинникам, вручая по одному подарку каждому?

- А) 1 Б) 2 В) 3 Г) 4

10. Расставь числа в квадрате так, чтобы в каждой строке, каждом столбце и на каждой диагонали сумма равнялась 9. Какого числа **нет** в квадрате?

- А) 1 Б) 0 В) 7 Г) 4

2	6	
	3	

11. В каких словах пишется разделительный «Ъ» на месте пропуска?

- 1) с...ел 2) в...юга 3) вороб...и 4) бул...он 5) об...яснение

- А) 1, 2 Б) 1, 5 В) 3, 5 Г) 1, 3, 4, 5

12. Как можно поприветствовать при встрече старшего уважаемого человека?

- 1) Кого я вижу!
2) Здравствуйте!
3) Добрый день!
4) Какая встреча!
5) Здорово!

- А) 1, 2 Б) 2, 3 В) 3, 4 Г) 4, 5

